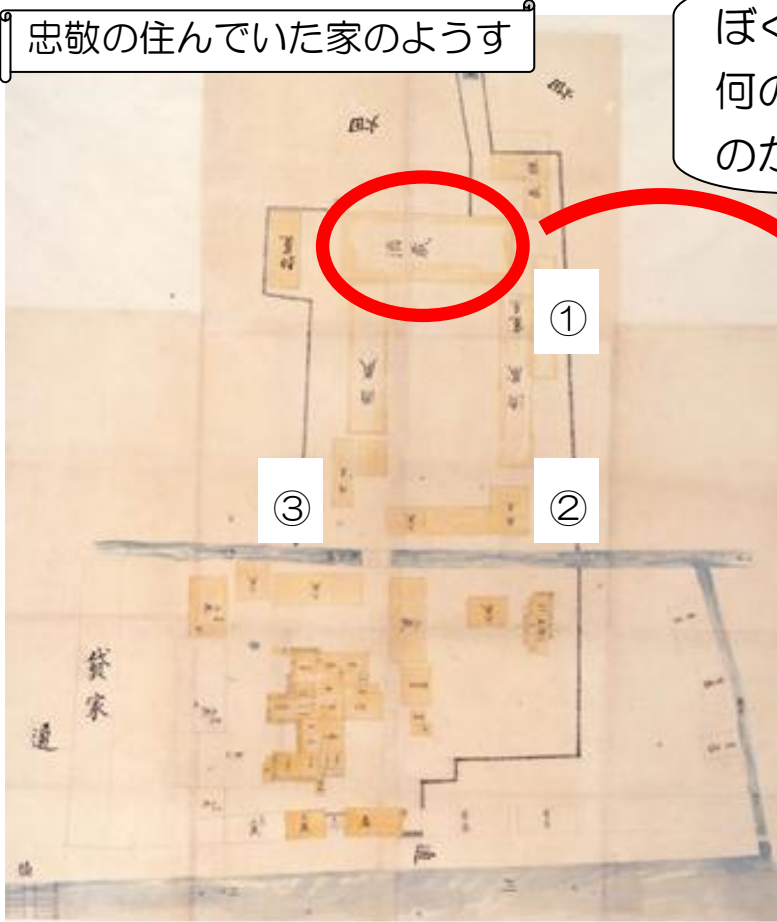



下の絵があるところをさがして、□のなかに答えをかいてみよう！


忠敬の住んでいた家のようす



ぼくは、地図作りをするまえに、何のしごと（^{しょうばい}商売）をしていたのか、しらべてね！



大きくしました！



①なんてかいてあるのかな？

(くら) ←よみかた

蔵

②これは絵のなかにいくつある？


つ

下の絵の建物は、上の①～③のどこにあるかさがして、□に番号をかいてみよう！

春屋(つきや)

竈屋(かまどや)

樽蔵(たるぐら)




春屋(つきや)では、^{げんまい}玄米をついて白米にします。

竈屋(かまどや)では、その白米を炊いて蒸らします。



春屋も竈屋も、お酒をつくるための材料となる



を加工する場所です。

忠敬は地図作りをするまえは、 をつくるしごとをしていました