

いのうただたかきゅうたく たてもの かんじ
伊能忠敬旧宅の中にある建物などの名前を口に漢字でかこう！

(せいもん)

①




忠敬が住んでいたころは、いまの土地の広さの5倍以上あったよ！



(すいじば)

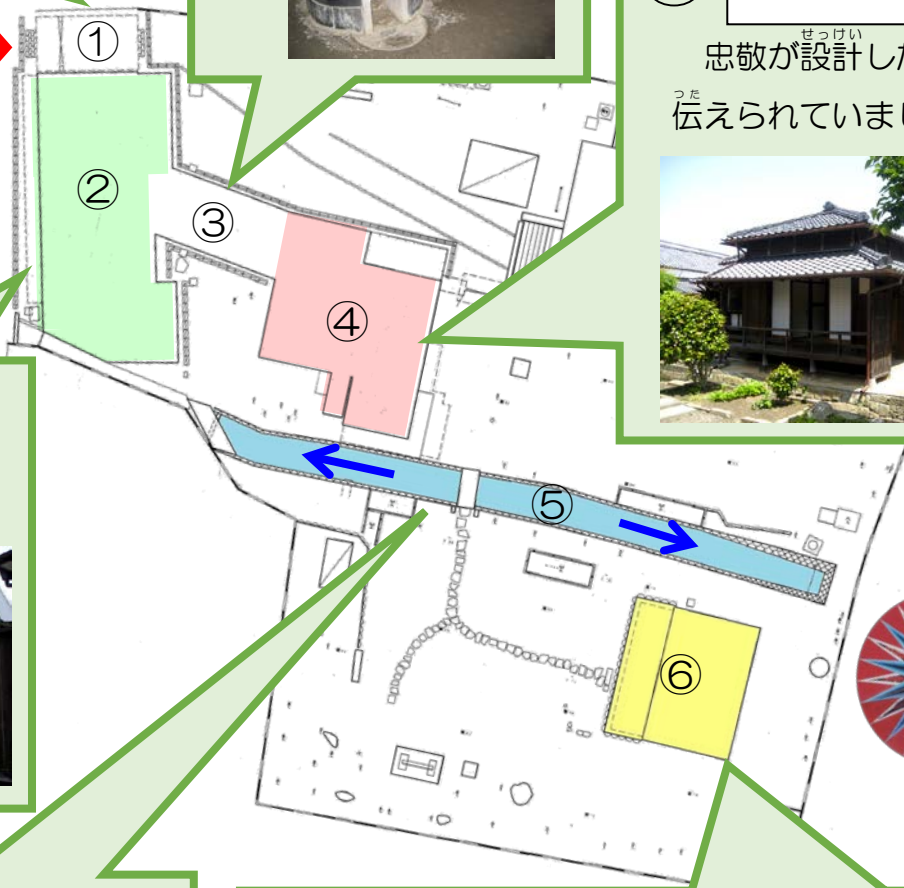
③



(しゅいん)


④

忠敬が設計したと伝えられていました

(てんぼ)

②



(ようすいろ)

⑤

農業用の水を樋橋によって東岸から西岸へ運ぶためのものです

(どそう)

⑥

忠敬の地図や伊能家にかかわるものを、大切に保管してきました



かんがえてみよう！

Q. ⑤の水はどちらの方向に運ばれるのか、矢印に○をつけましょう。