

<ステップ1>

伊能忠敬の作った地図には、地図記号のようなマークが押されています。展示してある地図を見て、下の4つのマークを探してみよう！



見つけたら☑をいれよう！

<ステップ2>

4つのマークは何をしめしているのか、こたえの番号を口のなかにかいてみよう。また、現在の地図記号と同じものを線でつないでみよう！






- ①山
- ②井戸
- ③寺

- ①プラネタリウム
- ②星を測った場所
- ③ヒトデ

- ①足がついた船
- ②お城
- ③神社

- ①港
- ②熊手(くまで)
- ③テント



げんざい
現在使われて
いる地図記号
はありません。