


下の絵があるところをさがして、□のなかに答えをかいてみよう！


忠敬の住んでいた家のように



ぼくは、地図作りをするまえに、何のしごと（しょうばい商売）をしていたのか、しらべてね！



大きくしました！



①なんて書いてあるのかな？

（さけくら）（さかぐら）でも○

酒 蔵

②これは絵のなかにいくつある？

3 つ

下の絵の建物は、上の①～③のどこにあるかさがして、□に番号をかいてみよう！


春屋（つきや）

竈屋（かまどや）

樽蔵（たるぐら）



2



1



3

春屋（つきや）では、げんまい玄米をついて白米にします。

竈屋（かまどや）では、その白米を炊いてむ蒸らします。



春屋も竈屋も、お酒をつくるための材料となる

お米

を加工する場所です。

忠敬は地図作りをするまえは、**お酒**をつくるしごとをしていました