

<ステップ1>

伊能忠敬の作った地図には、地図記号のようなマークが押されています。展示してある地図を見て、下の4つのマークをさがしてみよう！



見つけたら☑をいれよう！

<ステップ2>

4つのマークは何をしめしているのか、答えの番号を口のなかにかいてみよう。また、現在の地図記号と同じものを線でつないでみよう！







- ①山
  - ②井戸
  - ③寺
- ③**

- ①プラネタリウム
  - ②星を測った場所
  - ③ヒトデ
- ②**

- ①足がついた船
  - ②お城
  - ③神社
- ③**

- ①港
  - ②熊手(くまで)
  - ③テント
- ①**



現在使われている地図記号はありません。